

Modi Public School, Siliguri

Evaluation 3 – 2022-23

Class 2

ENGLISH

Q1] Complete the sentences: -

- a] The rays of the sun made the glass windows _____
- b] Kamala sometimes asked her mother to _____

- c] One afternoon, Kamala _____
- d] It took a total of _____ hour to unload and load the cart.
- e] The names of the bullocks are _____ and _____.

Q2] Write (T) for True and (F) False: -

- a] The grey bundle was a gull.
- b] The children kept the gull at home as their pet.
- c] The gull that saved the children was 'their' gull.
- d] The children wanted the gull to fly away.

Q3] Write the meanings of the following words: -

- a] Weeping - _____
- b] Wander off - _____

- c] Squawked - _____
- d] Blazing - _____

Q4] Circle the correct verb : -

- a] She (keep / keeps) her room neat and tidy.
- b] I (play / plays) football every Saturday.
- c] Children (love / loves) to eat chocolates.
- d] My mother (make / makes) delicious food.

Q5] Fill in the blanks with the simple past tense form of the verb given in the brackets: -

- a] Sam _____ (finish) his homework on time.
- b] Neha _____ (carry) her bag on her own.
- c] She _____ (clean) the blackboard with a duster.
- d] The cat _____ (jump) over the wall.

Q6] Underline the correct pronoun and circle the noun they stand for: -

- a] Selina wants to play football as she loves the game.
- b] Radha and her sister will not go to school as they are ill.
- c] The dog was happy when it was given food.
- d] My bag has a hole in it.

Q7] Write the opposite words: -

- a] Wide - _____
- b] Find - _____
- c] Throw - _____
- d] Best - _____
- e] Sunny - _____
- f] Day - _____

Q8] Name the following: -

- a] A land used for growing crops or for keeping domestic animals - _____
- b] The top point of a mountain - _____
- c] A place where people keep their money - _____
- d] A place where books are kept - _____
- e] A book of maps - _____
- f] Someone or something that is very special - _____

Q9] Answer the following :-

a] How did the children's mother help the gull ?

b] What does the speaker think the sun does?

c] Why was the cart-driver crying?

d] How did they get the cart out of the mud?

e] Where is the cuckoo?

f] Why did Kamala's mother let her ride her bicycle across the valley?

Modi Public School, Siliguri

Evaluation 3 – 2022-23

Class 2

Language 2 – Hindi

खंड 'क' व्याकरण

प्र1] नीचे दिए गए शब्दों के वचन बदलकर लिखो –

क] ताला - _____ ख] सड़क - _____ ग] लड़की - _____

घ] कक्षा - _____ ङ] आँख - _____

प्र2] सही सर्वनाम शब्द चुनकर वाक्य पूरा करो –

क] राम _____ दोस्त है | [मेरा \ उसने]

ख] _____ क्या कर रहे हो ? [तुम \ हम]

ग] _____ कल दिल्ली जाएँगे | [हम \ तुम]

घ] दरवाज़े पर _____ आया है | [कोई \ मेरा]

ङ] _____ गाना नहीं आता | [मुझे \ मेरे]

प्र3] दिए गए वाक्यों में क्रिया शब्दों के नीचे रेखा खींचो –

क] बच्चे तेज दौड़ रहे हैं |

ख] रवि किताब पढ़ रहा है |

ग] सूरज निकल रहा है |

घ] खेत में किसान फसल काट रहा है |

ङ] नदी में पानी बह रही है |

प्र4] निम्नलिखित वाक्यों में से विशेषण शब्द को छाँटकर लिखें –

क] मेरी कक्षा छोटी है | _____

ख] उसके पास दो किताबें हैं | _____

ग] यह चाय गरम है | _____

घ] दादी तीन लीटर दूध लाई हैं | _____

ङ] लोमड़ी चालाक होती है | _____

प्र5] दिए गए शब्दों की सहायता से कहानी पूरी करो –

खट्टे अंगूर गला लोमड़ी ऊँचे

एक _____ ने बेल पर _____ देखे | उसने उछलकर अंगूर तोड़ने की कोशिश की | अंगूर _____ लटके थे | वह उन तक नहीं पहुँच सकी | उसने कहा ' अंगूर _____ हैं , अगर खाऊँगी तो _____ खराब हो जाएगा' | यह कहकर वह वहाँ से चली गई |

खंड 'ख' पाठ्यपुस्तक

प्र6] दिए गए शब्दों के अर्थ लिखो -

- क] झुंड - _____ ख] विशेष - _____
ग] पृष्ठों - _____ घ] आज़ाद - _____
ड] कुरमुरे - _____

प्र7] रिक्त स्थान भरों -

- क] बंदर को सूने घर में एक _____ दिखाई दिया |
ख] अचानक हिरन _____ से निकलकर शिकारी के सामने आ गया |
ग] चूहे ने अपने तेज _____ से जाल काट दिया |
घ] ईशान _____ के पीछे से सामने आ गया |
ड] कंगारू के बच्चों को _____ कहा जाता है |

प्र8] सही वाक्य पर ✓ और गलत वाक्य पर ✗ लगाओ -

- क] कंगारू ऑस्ट्रेलिया का राष्ट्रीय पशु है | []
ख] ईशान अपना खाना पूरा खत्म कर देता था | []
ग] ईशान ने कहा - आह ! बहुत तेज दर्द हो रहा है | []
घ] अंत में शिकारी को कछुआ मिल गया | []
ड] बंदर ने दोनों हाथ घड़े में डाल दिए | []

प्र9] दिए गए प्रश्नों के उत्तर लिखो -

क] यदि बंदर घड़े में एक हाथ डालता तो क्या होता ?

उ. _____

ख] हिरन बहुत देर तक क्यों नहीं आ पाया था ?

उ. _____

ग] ईशान ने पाठशाला से आकर क्या किया ?

उ. _____

घ] कंगारू क्या खाते हैं ?

उ. _____

ड] भूखे बंदर ने क्या देखा ?

3. _____

Name:

Roll No.

Modi Public School, Siliguri

Evaluation 3 – 2022-23

Class 2

SUB - Bengali

১) নীচের প্রশ্নগুলোর একটি শব্দে উত্তর দাও-

১.১) আশুতোষের পুরো নাম কি ?

১.২) কি থাকলে কুমিরের মোকাবিলা করা যেত ?

১.৩) ঠাকুরদাদা কি হারিয়েছিল ?

১.৪) কোন পাখি কথা বলছিল ?

১.৫) খুকি কার কাছে পেয়ারা চাইছে ?

১.৬) গুহার মধ্যে কে বসেছিল?

১.৭) বুড়ির পিঠখানা কীরূপ ?

১.৮) বাহাদুরের দোকান কোথায় অবস্থিত ?

২) নীচের শব্দগুলির অর্থ লেখ-

২.১) আস্ত = _____

২.২) রোষে = _____

২.৩) মিছে = _____

৩) সঠিক উত্তরের পাশে (✓) চিহ্ন দাও-

ক) গল্প বলছিল, -রহিম [] / আব্দুল []।

খ) ইংরেজটি আশুতোষকে দেখে খুশি হয় [] / রেগে যায় []।

গ) চশমা ছিল ঠাকুরদার -কপালে [] / পকেটে []।

ঘ) কাকাতুয়াটি গুরুং [] / তামাং []-দেব।

৪) নীচের শব্দগুলি দিয়ে ফাঁকা জায়গা পূরণ কর-

[বুকের পাটা, ট্রেনে, ধীরে ধীরে, টক্কর, গম্ভীর]

৪.১) তারা _____ করে দিল্লি গেল।

৪.২) দিনের শেষে _____ রাত্রি নামে।

৪.৩) ছেলেটি দৌড়াতে গিয়ে পাথরের সঙ্গে _____ খেলো।

৪.৪) তিনি খুব _____ স্বরে কথা বলেন।

৪.৫) বাঘ শিকার করতে _____ লাগে।

৫) পুংলিঙ্গ কাকে বলে ? উদাহরণ দাও।

৬) বিশেষ্য পদ কাকে বলে? উদাহরণ দাও।

৭) নীচের শব্দগুলির সমার্থক শব্দ লেখ [দুটি করে] -

- ৭.১) পিতা = _____ , _____
৭.২) মাতা = _____ , _____
৭.৩) পুত্র = _____ , _____
৭.৪) জল = _____ , _____

৮) নীচের শব্দগুলির লিঙ্গ পরিবর্তন করো -

- ৮.১) বর = _____
৮.২) ছাত্র = _____
৮.৩) সাহেব = _____
৮.৪) সিংহ = _____

৯) নিচে দেওয়া বিশেষণ পদ দিয়ে শূন্যস্থান পূর্ণ করো-

[কালো, নীল, লাল, সুন্দর]

- ৯.১) _____ ফুল
৯.২) _____ আকাশ
৯.৩) _____ চুল
৯.৪) _____ ছবি

১০) সঠিক বানানের পাশে (✓) চিহ্ন দাও-

- ১০.১) অতিথি [] / অতীথি []
১০.২) বিনা [] / বীণা []

Modi Public School, Siliguri

Evaluation 3 – 2022-23

Class 2

Language 2 – Nepali

प्र०१] खाली ठाउँ भर :

क] म सिपाही _____ [होऊँ / होऊ]
ख] उनीहरू पाठशाला _____ [जाऊ / जाऊन्]
ग] तिमीहरू घर _____ [आओ / आओँ]
घ] हामीहरू होली _____ [खेलौ / खेलौँ]

प्र०२] सही शब्दलाई छानेर खाली ठाउँ भर :

क] _____ पाठशाला गए [दाजु / भाइ]
ख] ऊ कोठामा _____ [छस् / छ]
ग] गुरुले कथा _____ [पढाउनुभयो / पढायो]
घ] _____ ज्ञानी छ [तिमी / ऊ]

प्र०३] सुहाउँदो क्रियाविशेषण शब्दलाई रेखांकित गर:

- क] समृद्धि [ढिलो / सनक्क] लेखिछन् |
 ख] खरायो [लुखुरलुखुर / मरीमरी] हाँस्यो |
 ग] [झटपट / सलसल] काम गर |
 घ] कोठामा [जुरुक्क / खुरुक्क] जाऊ |

प्र०४] तलका दिइएका शब्दहरूलाई दोहोराएर लेख :

क] चम-चम =	ख] सल-सल =

ग] झल्-झल् =	घ] कल-कल =

प्र०५] जोडा मिलाऊ :

- क] ऊ - ज्ञानी छस् |
 ख] उहाँ - कलाकार भइन् |
 ग] तपाईं - विद्यार्थी हो |
 घ] तँ - घरमा छौ |
 ङ] उनी - कहाँबाट आउनुभयो ?
 च] तिमी - भोलि जानुहुन्छ |

प्र०६] तल दिइएका खाली कोठा भर :

प्राणी	बस्ने ठाउँ
मान्छे	
	गोठ
मूसा	
	बाख्रा

प्र०७] जोडा मिलाऊ :

- क] कुकुर - कुखुरी काँ
 ख] घोडा - चीँ-चीँ
 ग] कुखुरा - भौँ-भौँ
 घ] मूसा - बाँ-बाँ
 ङ] चरा - निँह
 च] गाई - चिर्चिर

प्र०८] तल दिइएका करण वाक्यलाई अकरण बनाऊ :

क] यो झोला हो |

ख] किताब राख |

ग] मिठाई किन |

प्र०९] तल दिइएका खाली ठाउँमा चाहिने शब्द वा चिन्ह लेख :

क] तिमीहरू भोलि _____ जान्छौ [को / कहाँ]
ख] तपाईं _____ जानुहुन्छ ? [के / कसरी]
ग] के उनीहरूले गीत गाउँछन् _____ [/ / ?]
घ] झोलामा _____ होला ? [कता / के]

प्र०१०] तल दिइएका वाक्यलाई सही गरी लेख :

क] फूलबारी मा फूल हरू फुलिरहे का छन् |

ख] मेरो घर मा एउटा बिरालो को बच्चा छ |

ग] हामी ले हाम्रो देश लाई माया गर्नु पर्छ |

प्र०११] शुद्ध गरेर लेख :

क] सदै -	ख] ठुलो -
ग] उनि-	घ] चिज -

प्र०१२] तल दिइएका शब्दहरूका अर्थ लेख :

क] सम्मान -	ख] देवता -
ग] जिउ -	घ] चोक -

प्र०१३] सही शब्द छानेर खाली ठाउँ भर :

क] _____ बस सधै [खेलेर / मिलिजुली]
ख] झोलामा साँच्चै _____ थियो [आलु / मिठाई]
ग] हाम्रो देश _____ हो [भारत / नेपाल]
घ] कछुवाले बाजी _____ जित्यो [खेल / बाजी]
ङ] हिन्दुहरू _____ जान्छन् [मन्दिर / मस्जिद]

प्र०१४] प्रश्न – उत्तर :

क] हामी हाम्रो देशलाई के गरौं ?

उत्तर -

ख] भाइले झोलामा के छ भन्यो ?

उत्तर -

ग] हामीले कसको मान राख्नु पर्छ ?

उत्तर -

घ] बाजी कसले जित्यो ?

उत्तर -

ङ] खरायोले किन बाजी हार्यो ?

उत्तर -

च] हिजो बालक कोसित सुतेको थियो अनि खरायोले के खाँदो रहेछ ?

उत्तर -

Modi Public School, Siliguri

Evaluation 3 - 2022-23

Class 2

MATHEMATICS

A] Solve the following –

$$\begin{array}{r} \text{₹} \quad \text{p} \\ 268 \quad 75 \\ + 128 \quad 75 \\ \hline \end{array}$$

$$\begin{array}{r} \text{m} \quad \text{cm} \\ 63 \quad 45 \\ - 36 \quad 5 \\ \hline \end{array}$$

$$\begin{array}{r} \text{kg} \quad \text{g} \\ 9 \quad 10 \\ + 5 \quad 100 \\ \hline \end{array}$$

$$\begin{array}{r} \text{l} \quad \text{ml} \\ 1 \quad 950 \\ - 0 \quad 275 \\ \hline \end{array}$$

$$5] \quad \begin{array}{|c} 8 \\ \hline \end{array} \begin{array}{|c} 64 \\ \hline \end{array}$$

$$6] \quad \begin{array}{|c} 9 \\ \hline \end{array} \begin{array}{|c} 67 \\ \hline \end{array}$$

Q = ___ R = ___

Q = ___ R = ___


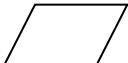
B] Fill in the blanks-

1] 1m = _____ cm

2] What is $0 \div 10$? _____

3] ₹ 20 = _____ p

4] 500 ml + 400ml = _____

5] How many  are in  ? _____

6] $48 \div 6 =$ _____

7] Two division fact of $7 \times 6 = 42$ is _____, _____

8] 345 p = ₹ _____ and _____ p

9] Two halves of a chocolate together make _____ chocolate.

10] One week has 7 days. How many weeks do 49 days make? _____

C] Choose the correct answer –

1] If cake is divided into 9 parts, then each part is

a) $\frac{1}{2}$

b) $\frac{1}{4}$

c) $\frac{1}{9}$

2] You measure the length of your toothpaste in

- a) g b) cm c) ml

3] One and a half litre is as same as

- a) 1l 5ml b) 1l 500ml c) 1l 50ml


4] 7 buttons are needed for 1 shirt. How many buttons are needed for 8 shirts?

- a) 45 b) 56 c) 63

5] 100 coins of 50 paise is

- a) ₹ 100 b) ₹ 150 c) ₹ 50

D] Look at these bottles.



Answer the following-

- 1] Which bottle contains the least? _____
 2] How much do B and C contain together? _____
 3] Which has more – C or D ? _____ How much more? _____
 4] Which bottle contains 1 litre? _____

E] The pictograph shows the number of people who likes different flavoured ice creams. Look at the pictograph and answer the questions.

Flavor	No. of people
Vanilla	
Chocolate	
Strawberry	
Pineapple	
Peach	

- 1] How many people eat chocolate ice cream? _____
 2] Which ice cream is least eaten? _____

3] How many people eat strawberry and pineapple chocolate? _____

4] Which ice cream is popular? _____

5] How many more people eat strawberry ice creams than vanilla ice creams? _____

F] STORY SUMS-

1] Mala spent ₹ 15 for a toy, ₹ 20 for an ice cream and ₹ 23 for a packet of popcorn. How much money did she spend?

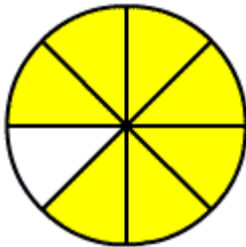
2] Mira buys a cake of weight 1kg 500g and potato chips of weight 500g. What is a total weight of the things she bought?

3] Raju's mother buys 56 rose plants. She plants them in 7 equal rows. How many plants are there in each row?

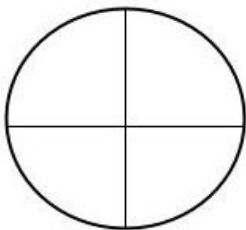
4] Nobita wants to buy a bat which costs ₹ 250. He has only ₹ 190. How much money does he need to buy the bat?

5] There are 60 biscuits arranged equally in 6 boxes. How many biscuits are there in each box?

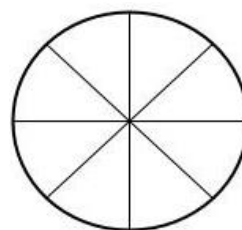
G] What fraction of each has been shaded?



H] Shade to show the fraction written below each figure.

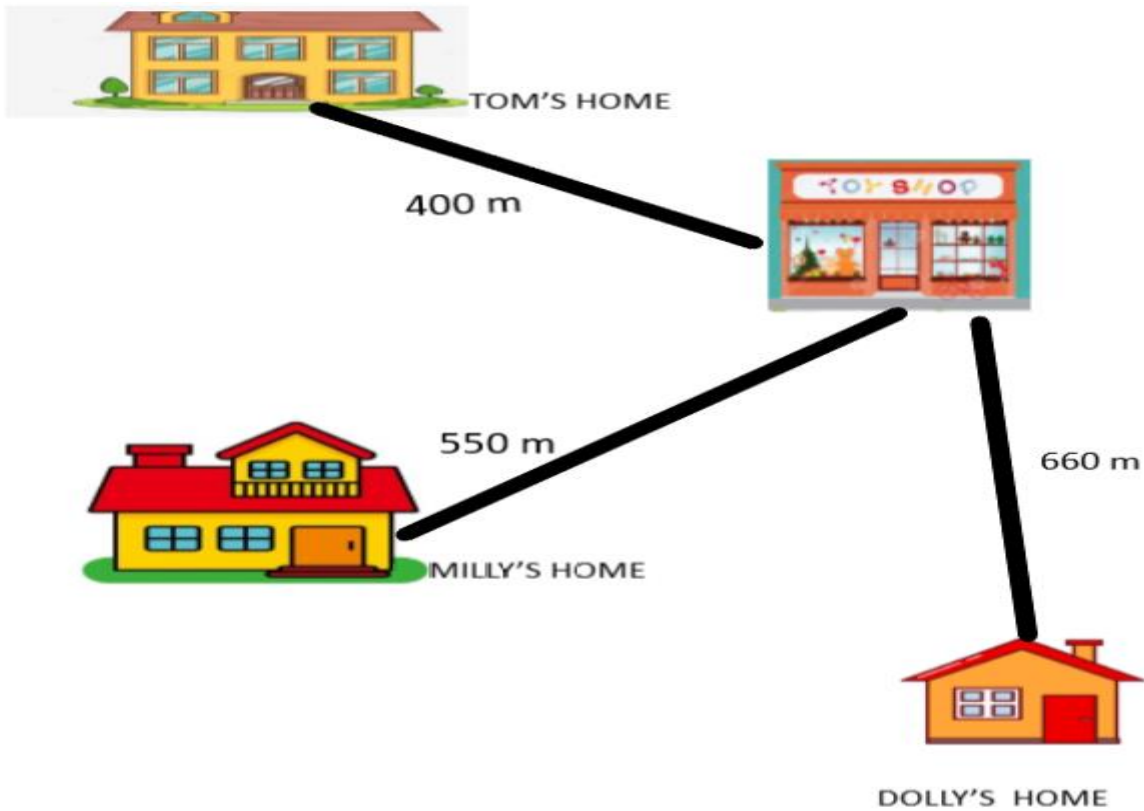


$$\frac{2}{4}$$



$$\frac{5}{8}$$

I] Here is a plan showing where 3 children live and also the position of a toy shop.



1] Milly walked to the toy shop and then walked back home again. How many metres did she walk?

2] How many metres is toy store from Dolly's house? _____

3] Tom walked to the toy store and then walked to Milly's house. How far did he walk?

4] How many more metres is Dolly's house from Milly's house? _____

5] Whose house is far from toy shop? _____

Modi Public School, Siliguri

Evaluation 3 – 2022-23

Class 2

EVS

1] Fill in the blanks:

- a] Crops like _____ grow well on the mountains.
- b] A large area of flat land is called a _____.
- c] Rainy season comes after the _____ season.
- d] The small hand of the clock shows us the _____.
- e] We use different means of _____ to travel from one place to another.
- f] A _____ tells us the time

2] Circle the correct answer:

- a] A (large / small) part of the Earth is covered with water.
- b] When the sun rises, it is (morning / afternoon).
- c] (Winter/ Monsoon) is another name for the rainy season.
- d] Early humans ate (raw / cooked) meat.
- e] A leap year has (366 / 365) days.
- f] November, December, January and February are the (summer / winter) months

3] State whether the following sentences are true or false:

- a] Noon is the hottest time of the day. _____
- b] The days are long and sunny in winter. _____
- c] People travel by sea on a ship. _____
- d] The Earth is shaped like a football. _____
- e] All plants and animals need air. _____
- f] We eat dinner in the afternoon. _____

4] Match the columns:


- | | |
|-------------------|-----------|
| a] Very high land | Air |
| b] Auto rickshaw | Breakfast |
| c] We breathe in | Mountain |
| d] Land transport | 2 wheels |
| e] Morning | Train |
| f] Scooter | 3 wheels |

5] Write the season next to the sentence:


- a] The days are cloudy and it rains often. _____
- b] We wear cotton clothes. _____
- c] We carry an umbrella. _____
- d] We drink something hot. _____
- e] We wear woollen clothes. _____
- f] We like to drink cold drinks. _____

6] Show the time on the clock for:

- a] At what time do you go to school?



- b] At what time do you do your homework?



7] Answer the following questions:

- a] What is the difference between weather and season?

b] What do we use water for?

c] How did the early humans bring home the large animals that they hunted?

d] Where do we find water on the earth?

e] Name the months that have 31 days.

f] What is the Earth covered with?

8] Draw one means of air transport, name and colour it: